

# Matematika





Mgr. Katarína Baráthová

**Kontakt: zssnp13.katarinabarathova@gmail.com**









Aj Vám milí žiaci je už dlho doma? Verte, že aj mne a už by som radšej bola v škole s Vami. No aj keď nemôžeme byť spolu aspoň touto cestou Vám chcem priblížiť školu u Vás doma. Ak nemáš možnosť si to vytlačiť, tak piš výsledky na papier a po vypracovaní poprosím rodičov, aby mi to zasielali na vyššie uvedenú adresu. V prípade nejasností ma kľudne prostredníctvom mailu kontaktujte. Ak by bol záujem aj o ďalšie úlohy navyše kľudne ma oslovte a ja ich zašlem na Váš mail.

**Téma:** Opakovanie prirodzené čísla v obore 0-20.

1. Dokresli, aby bol daný počet. Doplň.

			
$6 + \square = 10$	$3 + \square = 6$	$2 + \square = 5$	$4 + \square = 7$

2. Zapiš počet a porovnaj.






			
$\square - \square = \square$	$\square - \square = \square$	$\square - \square = \square$	$\square - \square = \square$
			
$\square - \square = \square$	$\square - \square = \square$	$\square - \square = \square$	$\square - \square = \square$



3. Obdĺžnikov musí byť daný počet. Ak treba dokresli.






9	□□□□□□□□
8	□□□□□□
7	□□□□□
10	□□□□□□□□
10	□□□□□□□□□□

8	
9	
10	
7	
6	

4. Doplň a porovnaj.











7	+		=	9
5	+		=	8
4	+		=	7
6	+		=	10
8	+		=	10



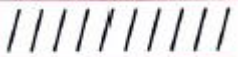







7		9
5		8
4		7
6		10
8		10

6	+		=	8
3	+		=	9
2	+		=	10
5	+		=	7
4	+		=	6

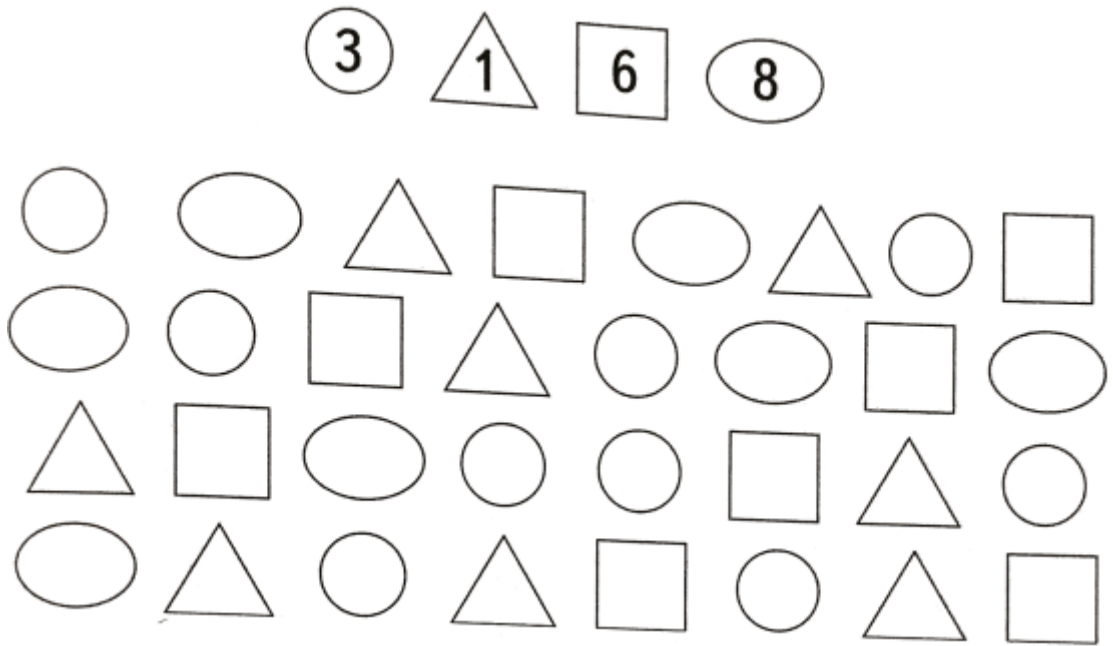
6		8
3		9
2		10
5		7
4		6

5. Zapiš a vypočítaj

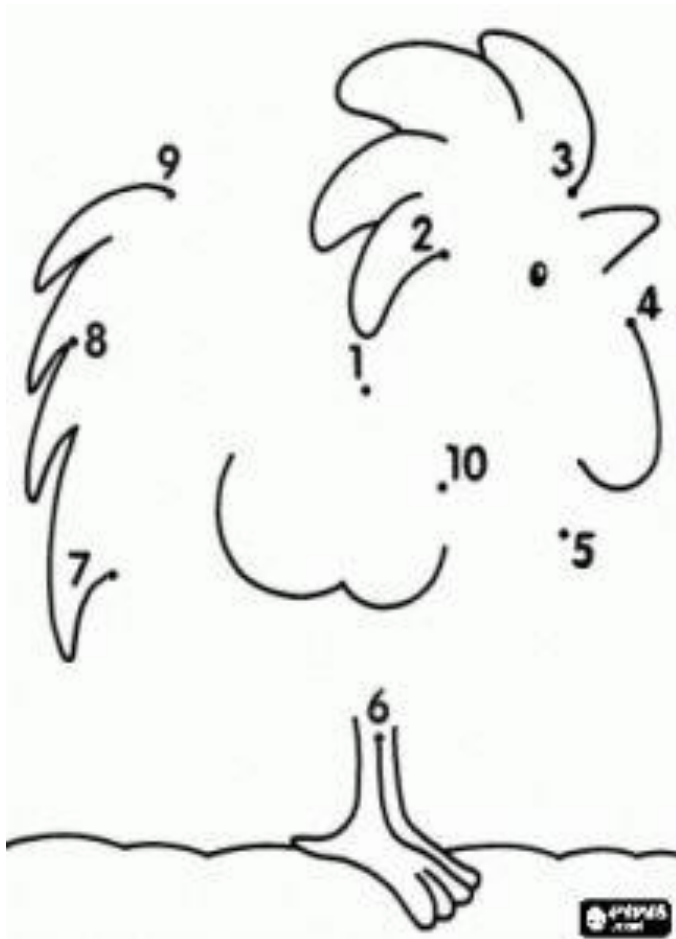
	+		=	
9	+	1	=	
	+		=	
	+		=	
	+		=	
	+		=	
	+		=	
	+		=	
	+		=	
	+		=	

	-		=	
10	-	1	=	
	-		=	
10	-	5	=	
	-		=	
10	-	7	=	
	-		=	
10	-	8	=	
	-		=	
10	-	6	=	

6. Dopln čísllice do geometrických tvarov podľa vzoru.



7. Za odmenu je tu pre teba spájanie čísel od 1 do 10. ak to správne urobíš za odmenu sa ti zobrazí obrázok, ktorý potom môžeš vymaľovať.



Ako sa ti pracovalo?

