

Predmet: Matematika

Trieda : IV.B

Dátum : 1.4 - 3.4.2020

---

Ahojte štvrtáci,

máme matematiku, takže si do svojich zošitov si najprv napíšte dátum, kto vie, tak sám a kto zabudol, tak si opíše z pracovného listu. Keď príklady vypočítate, napíšte mi na môj mail, ako sa Vám darilo, ktoré príklady ste zvládli, ktoré nie a spoločne sa na to pozrieme. Kto vie lepšie pracovať s telefónom, môže si pracovný list po vypracovaní odfotiť a poslať na môj mail- [zssnp13.liviacvengrosova@gmail.com](mailto:zssnp13.liviacvengrosova@gmail.com) .

### **STREDA – 1. 4. 2020**

#### **1.Vypočítaj príklady na sčítanie a odčítanie**

$56 + 67 =$

$453 + 235 =$

$1234 + 2532 =$

$98 + 43 =$

$658 + 936 =$

$4643 + 3650 =$

$76 + 81 =$

$800 + 201 =$

$7121 + 8201 =$

$91 + 91 =$

$657 + 657 =$

$2029 + 2029 =$

$89 - 54 =$

$900 - 823 =$

$9191 - 8999 =$

$76 - 12 =$

$501 - 201 =$

$9000 - 8000 =$

$87 - 79 =$

$342 - 300 =$

$2654 - 2650 =$

$54 - 54 =$

$865 - 864 =$

$3210 - 3021 =$

**2. Vypočítaj slovnú úlohu. Urob zápis, výpočet a na koniec napíš odpoveď**

Terka si nazbierala 187 farebných obrázkov. 12 z nich však stratila a 17 venovala svojej kamarátke Betke. Betka jej venovala 9 svojich obrázkov.

Vypočítaj, koľko obrázkov ostalo Terke ?

---

---

---

---

---

---

---

**Odpoveď :** Terke ostalo \_\_\_\_\_ obrázkov.

**3. Pozri si videjko na youtube o pomôcke na násobilku**

<https://www.youtube.com/watch?v=FAO8qNtPIFg> /1/ Niečo podobné si môžeš vyrobiť aj sám doma !

**ŠTVRTOK – 2. 4. 2020**

**1. Prepíš čísla do písomnej podoby, alebo opačne. Pracuj podľa vzoru**

6 - \_\_\_\_\_ → šesť

Dvadsaťdva - \_\_\_\_\_ → 22

9 - 

670 - 

17 - 

999 - 

65 - 

1000 - 


100 - 


3200 - 




## 2. Napíš čísla na linajky podľa pokynov

- napíš 5 čísel, ktoré sú menšie ako sto : 

- napíš 3 čísla, ktoré sú väčšie ako 900 : 

- napíš 3 čísla, ktoré sa začínajú na písmeno P : 

- napíš 5 čísel, ktoré obsahujú čísla 4, 7, 9 : 

Zdroje-

1. Pomôcka na násobilku-<https://www.youtube.com/watch?v=FAO8qNtPIFg>