

Predmet: Prírodoveda

Trieda : IV.B

Dátum : 4.5 - 7.5.2020




Pekný deň,

od mája sa budeme učiť aj prírodovedu. Úlohy budú zaujímavé, určite sa pri ich vypracovaní zabavíte. Vypracované úlohy mi prosím posielajte na školský mail- zssnp13.liviacvengrosova@gmail.com

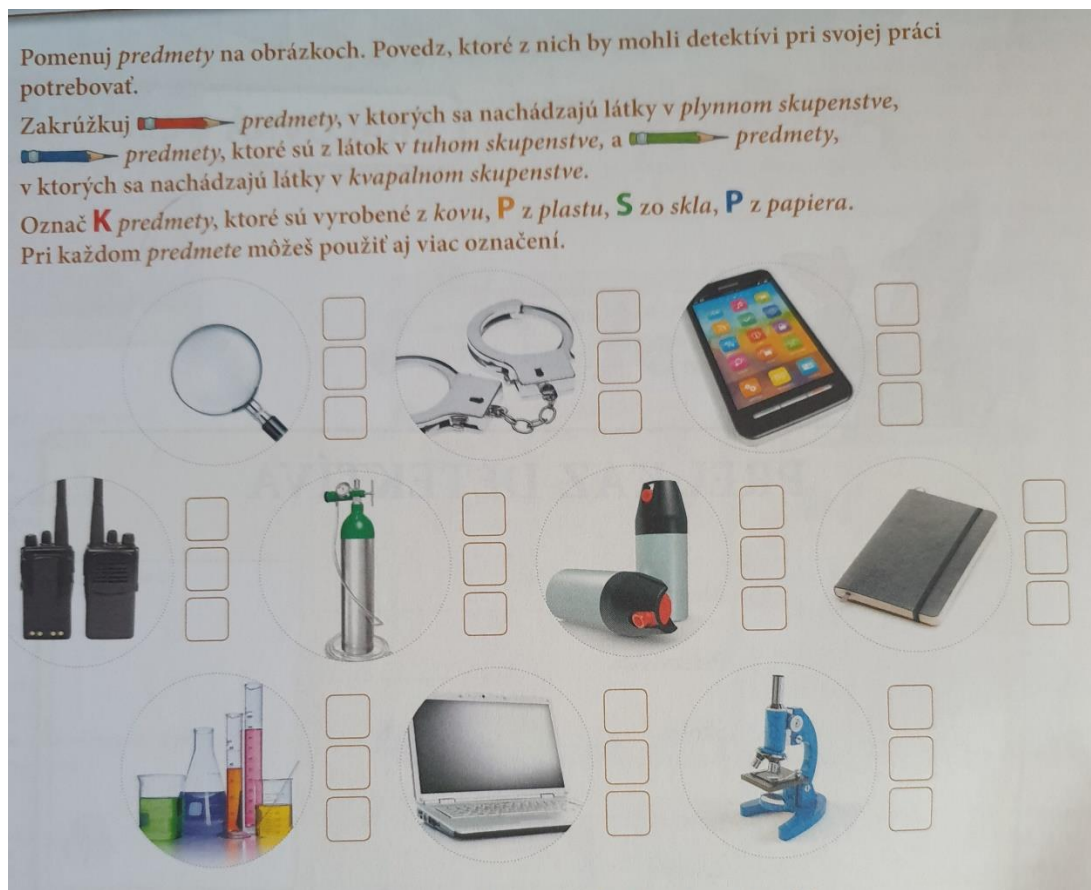
1. Pomenuj predmety na obrázku a povedz, ktoré sú v pevnom, kvapalnom a plynnom skupenstve

/ 1/

Pomenuj *predmety* na obrázkoch. Povedz, ktoré z nich by mohli detektívi pri svojej práci potrebovať.

Zakrúžkuj  *predmety*, v ktorých sa nachádzajú látky v *plynnom skupenstve*,  *predmety*, ktoré sú z látok v *tuhom skupenstve*, a  *predmety*, v ktorých sa nachádzajú látky v *kvapalnom skupenstve*.

Označ **K** *predmety*, ktoré sú vyrobené z *kovu*, **P** z *plastu*, **S** zo *skla*, **P** z *papiera*.
Pri každom *predmete* môžeš použiť aj viac označení.



2. Prezri si obrázky a povedz, o aký zmysel sa jedná na každom z nich

/ 2 /

2 a) Dopíš k obrázkom názvy *zmyslov*, ktoré detektívi využívajú pri svojej práci.
 b) Povedz, v ktorých situáciách dané *zmysly* detektívi využívajú.

Zmysel: _____

Zmysel: _____

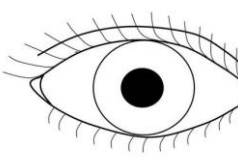
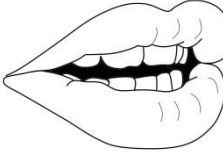



Zmysel: _____

Zmysel: _____


Zmysel: _____

3. Dopln' do tabuľky 5 zmyslov

/ 3 /

				
Z_ _ K	CH_ ě	Ā_ CH	S_ _ CH	H_ _ T

4. Skús povedať, s ktorým zmyslom súvisí každý obrázok v tabuľke / 4/



Zdroje

1,2. Prefotené obr – učebnica prírodovedy pre 4, roč. ZŠ

3,4. Zmysly v tabuľkách-https://www.zborovna.sk/kniznica.php?action=show_version&id=279621