

Predmet: Vlastiveda

Triada : IV.B

Datum : 11.5 - 15.5.2020

---

Pekný nový týždeň,

Nech sa páči nové úlohy z učebnice vlastivedy. Veľa šťastia pri ich vyplňaní.

Vypracované úlohy mi prosím posielajte na školský mail-  
[zssnp13.liviacvengrosova@gmail.com](mailto:zssnp13.liviacvengrosova@gmail.com)

### 1. Pozorne si prečítaj text. Pracuj s mapou z úlohy 4

/ 1/

## Znaky na mape



























Pozoruj mapu Slovenska. Povedz, čo všetko je na nej zaznačené.

Mapa obsahuje veľa informácií o krajine, ktorú znázorňuje. Povrch krajiny je na mape znázornený pomocou farieb. Hrady, zámky, zrúcaniny, vrchy, jaskyne, bane, kúpele, prírodné pamiatky, kultúrne pamiatky, letiská, prístavy a iné **objekty** sú znázornené pomocou **znakov**. Význam jednotlivých znakov je uvedený v **legende**, ktorá je súčasťou mapy. Znaky nám pomáhajú mapu čítať, to znamená ukázať prstom po mape a rozprávať o tom, čo je na nej znázornené.

2. Pozorne si prečítaj a pozri znaky na mape a skús čo najviac z nich vyhľadať na mape v úlohe 4. Aspoň 5 znakov si prekresli do zošita a napíš, čo znamenajú

/ 2 /

**Legenda mapy**

	vodný tok	<b>BRATISLAVA</b>	hlavné mesto		prírodná pamiatka UNESCO
	vodná nádrž	<b>Nitra</b>	krajské mesto		kultúrna pamiatka UNESCO
	štátna hranica	<b>Revúca</b>	okresné mesto		jaskyňa
	železnica	Dudince	mesto		kúpele
	diaľnica a rýchlostná cesta	Makov	vidiecke sídlo		gejzír
	cesta 1. triedy	Dukliansky priesmyk	sedlo, priesmyk		kúpalisko
	cestný tunel	Bralce 817	vrch		hrad, zámok, kaštieľ
	prístav	<b>TANAP</b>	národný park		hradná zrúcanina
	letisko		kostol, kláštor, kaplnka, pútnické miesto		skanzen, ľudová architektúra
	hraničný priechod		archeologická lokalita		folklórny festival
<b>Výsek mapy pohoria Nízke Tatry</b>					baňa
					jazero, vodopád, minerálny prameň
					pamätihodnosť (pamätník, pamätný dom, radnica, hradby, technická pamiatka - historická železnica, mlyn a podobne)
					prírodná zaujímavosť (skala, tiesňava, rašelinisko, travertínový útvar a podobne)

3. Doplň význam znakov na linajky a zakresli správny znak

/ 3 /

**Urč význam znakov:**

**Zakresli správny znak:**



\_\_\_\_\_



\_\_\_\_\_



\_\_\_\_\_



\_\_\_\_\_

Okresné mesto

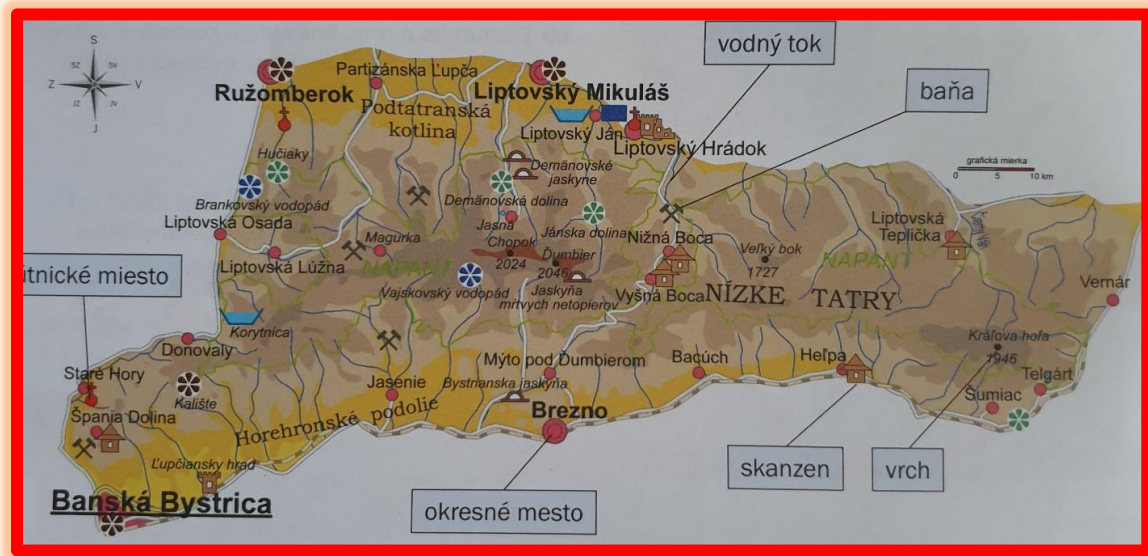
Mesto

Letisko

Kostol

#### 4. Výsek mapy, s ktorou pracuj v úlohách 1, 2, 3

/ 4/



#### 4. Vyskúšaj si, čo si si zapamätal z prebratej látky

/ 5/

Prečítaj vetu. Ak je pravdivá, vyfarbi písmeno v rámečku. Vyfarbené písmená napíš pod tabuľku.

Mapa je zmenšený obraz krajiny.	S
Mapy poznáme kreslené a písané.	K
Pomocou farieb na mape znázorňujeme povrch krajiny.	L
Odtieňmi zelenej farby značíme na mape nížiny.	O
Odtieňmi hnedej farby značíme na mape pohoria.	V
Hranice na mape značíme prerušovanou zlatou farbou.	A
Modrou farbou značíme na mape rieky, potoky a vodné plochy.	E
Oranžovou farbou na mape značíme polia.	R
Obce značíme na mape červeným krúžkom alebo plôškou.	N
Na mape je sever na hornom okraji mapy.	S
Na mape je juh na pravom okraji mapy.	N
Objekty sú na mape znázornené pomocou znakov.	K
Znaky na mape sú ľubovoľne umiestnené objekty.	V
Pomocou grafickej mierky mapy môžeme merať vzdialenosť na mape.	O



Zdroje-

1,2,4,5 Znaky na mape- Učebnica vlastivedy pre 4. roč. ZŠ

3 Znaky na mape- [https://www.zborovna.sk/kniznica.php?action=show\\_version&id=290908](https://www.zborovna.sk/kniznica.php?action=show_version&id=290908)