

Predmet : Vlastiveda

Triada : IV. B

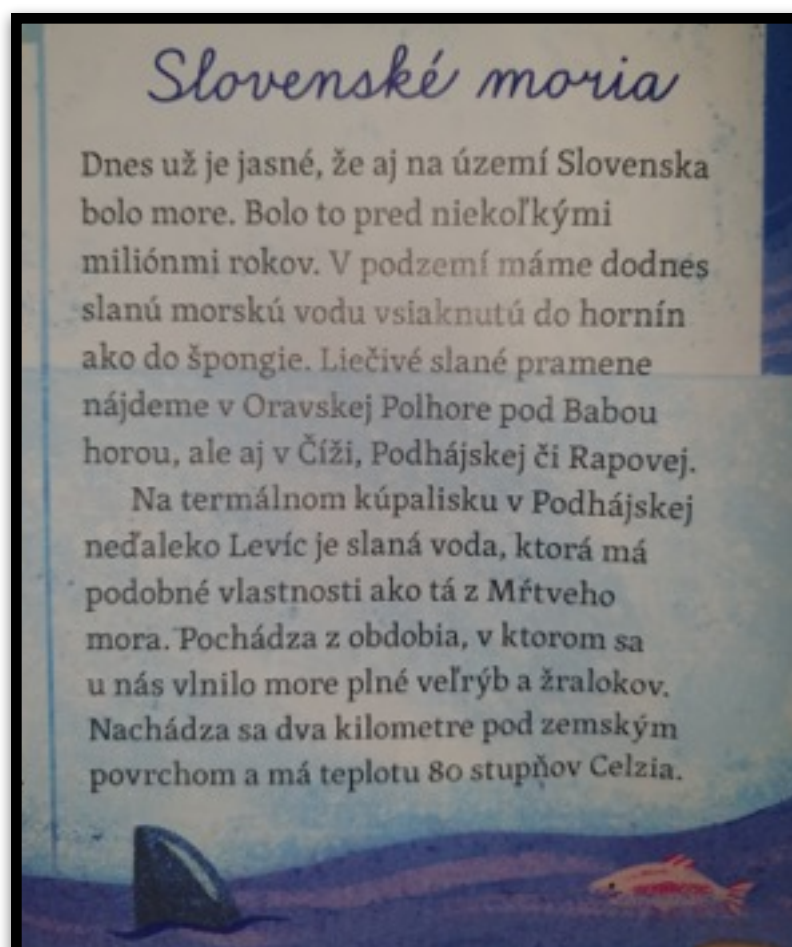
Dátum : 18. 5 - 22. 5. 2020

Pekný nový týždeň,

Nech sa páči nové úlohy z učebnice vlastivedy. Veľa šťastia pri ich vyplňaní.

Vypracované úlohy mi prosím posielajte na školský mail-
zssnp13.liviacvengrosova@gmail.com

1. Prečítaj si príbeh a potom sa pokús odpovedať na otázky pod ním /1/



OTÁZKY K PRÍBEHU

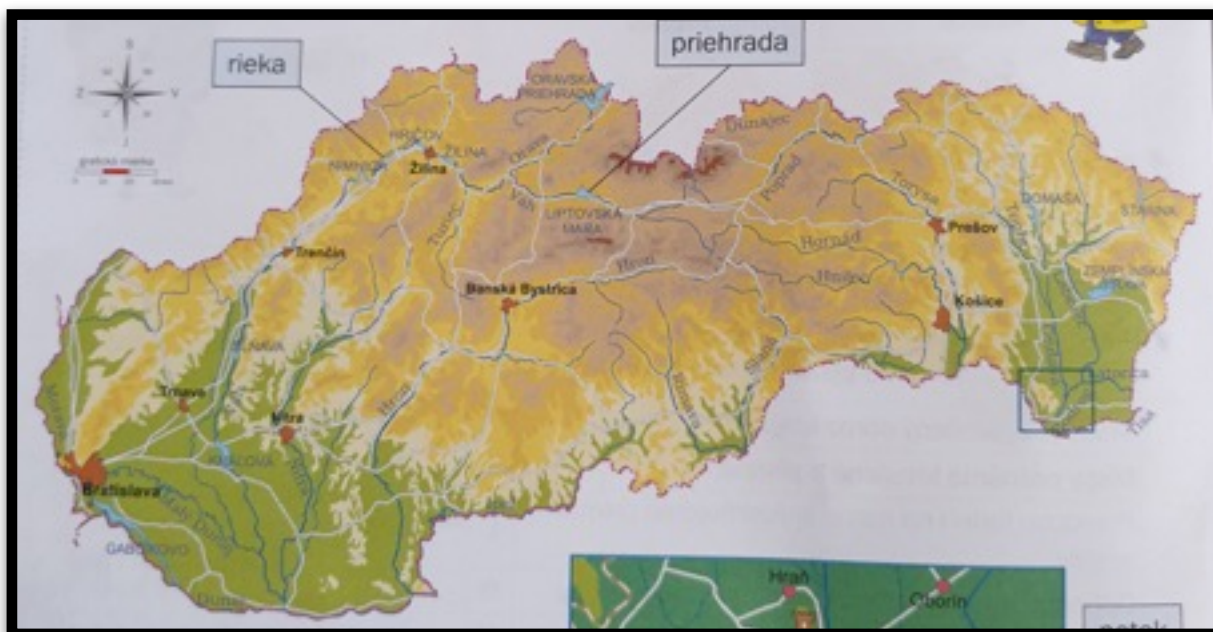
- ako sa volá príbeh?
- čo je to a ako vyzerá more?
- je v dnešnej dobe na Slovensku more?
- poznáš nejakú krajinu, ktorá má more?
- podľa čoho vieme, že v dávnej minulosti bolo aj na Slovensku more?
- vymenuj z textu liečivé slané pramene:
- kde na Slovensku sa nachádza slaná voda v kúpalisku?
- aká je tá voda horúca?
- žili na Slovensku žraloky a veľryby?
- čo si si zapamätal z príbehu a čo z príbehu ťa najviac zaujalo a prečo?

2. Prečítaj si text z učebnice vlastivedy a pracuj s mapou pod textom / 2/

Vodstvo na mape Slovenska

1 Na mape Slovenska ukáž, čo všetko je znázornené modrou farbou.

Vodné toky a vodné plochy znázorňujeme na mape **modrou farbou**. Na území Slovenska sa nachádza množstvo **vodných tokov** a **vodných plôch**. V horách pramení veľa potokov a riek. Z hôr stekajú do dolín a nížin. Najdlhšou slovenskou riekou je **Váh**. Najviac vody pretečie riekou **Dunaj**. Preto je najmohutnejšou riekou Slovenska. Preteká naším územím v západnej časti južného Slovenska. Do Dunaja sa vlieva väčšina slovenských riek. **Jazerá** a **plesá** sú vodné plochy, ktoré vznikli prirodzeným spôsobom, napríklad Morské oko v pohorí Vihorlat alebo Štrbské pleso v Tatrách. Vodné plochy, ktoré vytvoril človek, sú **priehrady**, **umelé jazerá**, **tajchy**, napríklad priehrada Liptovská Mara, tajchy pri Banskej Štiavnici.



- Vypíš z mapy 2 rieky _____
- Vypíš z mapy 2 vodné nádrže _____

4. Skús vylúštiť malý kvíz



5. Pozorne si prečítaj text a pozoruj obrázok. Naučíš sa, ako vzniká rieka

AKO VZNIKNE RIEKA ?

/5/

- rieka pramení vysoko v horách - **PRAMEN**
- zo zrážok (dažďa) a spodnej vody sa vytvorí potôčik
- z potôčika sa stane potok, potom rieka

Rieka sa môže spájať s inou riekou – **SÚTOK**

Keď sa rieka priblíži k moru, prehĺbi sa, miesto

Spojenia rieky a mora – **ÚSTIE**

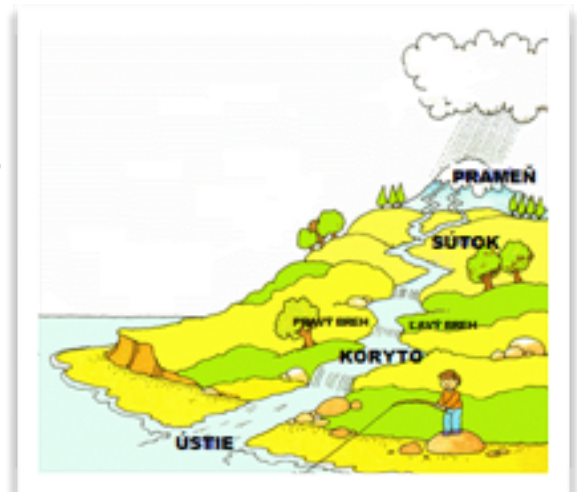
Dĺžka rieky je vzdialenosť od ústia rieky

Až po prameň rieky. Najdlhšou riekou

Slovenska je VÁH – 403 km.

Každý potok a rieka má svoje **KORYTO**.

Po oboch stranách koryta sú **BREHY**.



6. Pozoruj na výseku mapy jemné rozdiely medzi znázornením potoka, rieky a prameňa.

/6/



Zdroje-

1. Slovenské moria- Slniečko7/2020
- 2,3,4,6 Vodstvo SR- Učebnica vlastivedy pre 4. ročník ZŠ
- 5 Ako vzniká rieka- https://www.zborovna.sk/kniznica.php?action=show_version&id=288184