

Matematika

Týždeň: 01.06. 2020 – 05.06.2020

Téma: Čítanie a písanie čísla 10. Prirodzené čísla 1 až 10. Porovnávanie.


Pondelok 01.06.2020

1. Prečítaj básne. O akom čísle sa rozpráva?


Jednotku už dávno poznám,
aj nula je známa.
A tak môžem plesat' -
viem napísať desať'.

Ja som veľká desiatka,
väčšie ako deviatka,
som už číslo dvojmiestne,
stojím širšie na mieste.

2. Obrázok vymaľuj.



3. Napíš.



10 10

10 10

10 9 8 7 6

5 4 3 2 1 0

1 2 3 4 5

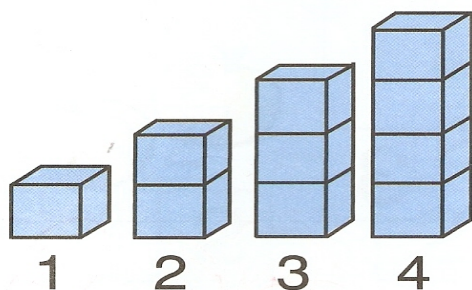
6 7 8 9 10

Utorok 02.06.2020

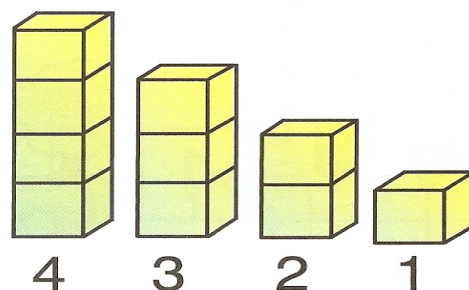
4. Nakresli 10 zrníek piesku.



5. Doplní číslo, ktoré v rade chýba.


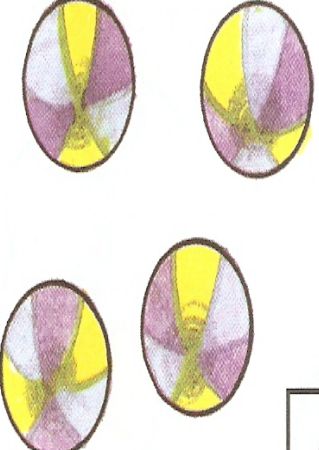






1		3	
	2		4
1	2		
1		3	4
		3	
1			








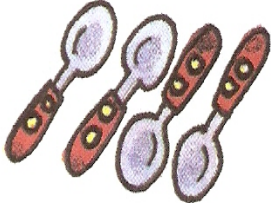















4		2	
	3		1
4	3		1
4		2	
		2	1
			1

6. Prečiarkni, čo je navyše.

 <p>1</p>	 <p>2</p>	 <p>3</p>
 <p>4</p>	 <p>3</p>	 <p>4</p>

Streda 03.06.2020


7. Príklady prečítaj. Napíš ich číslami.

	+		=		$1 + 3 = 4$
	+		=		
	=		+		
	+		=		
	=		+		
	=		+		
	+		=		

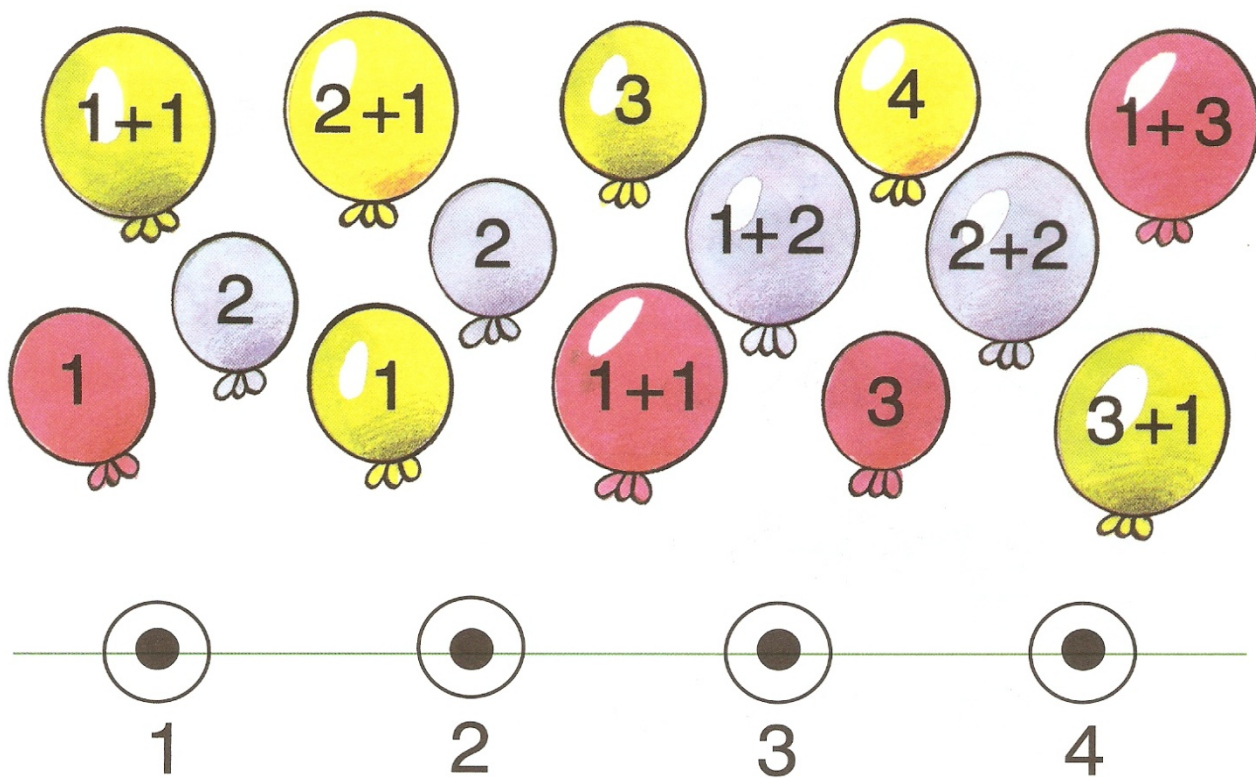
8. Ktoré predmety medzi ostatné nepatria?

Štvrtok 04.06.2020

9. Dopln chýbajúce čísla.




10. Spoj so správnym číslom.



11. Vypočítaj slovné príklady.


Paľo má



Koľko hrušiek má Paľo?

--	--	--	--	--


Mama kúpila



Koľko pečiva kúpila mama?

--	--	--	--	--


V lese boli 3 duby.



Koľko dubov zostalo v lese?

--	--	--	--	--

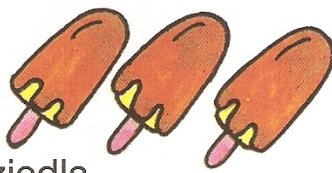
Jana má




Koľko cukríkov má Jana?

--	--	--	--	--

Eva si kúpila




Jeden nanuk zjedla.



Koľko nanukov jej zostalo?

--	--	--	--	--

Na drôte sedeli 3 lastovičky.



Dve lastovičky odleteli. Koľko lastovičiek zostalo na drôte?

--	--	--	--	--

Piatok 05.06.2020

12. Vyfarbi najvyšší a najnižší strom, najdlhšiu a najkratšiu ceruzku a najmenšieho a najväčšieho motýlika.

