

Matematika

Týždeň: 11.05.2020 – 15.05.2020

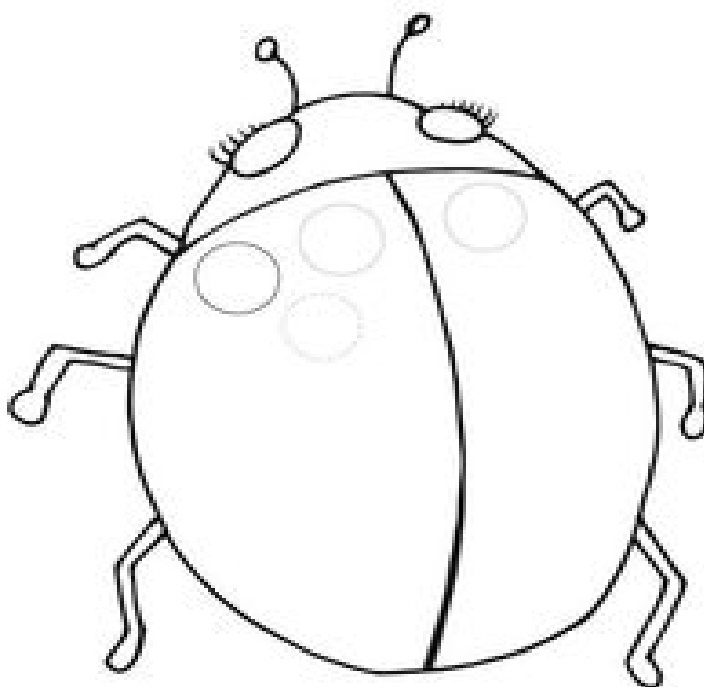
Téma: Čítanie a písanie čísla 7. Prirodzené čísla 1 až 10. Body a čiary.

Pondelok 11.05.2020

1. Prečítaj báseň. O akom čísle sa v básni rozpráva?

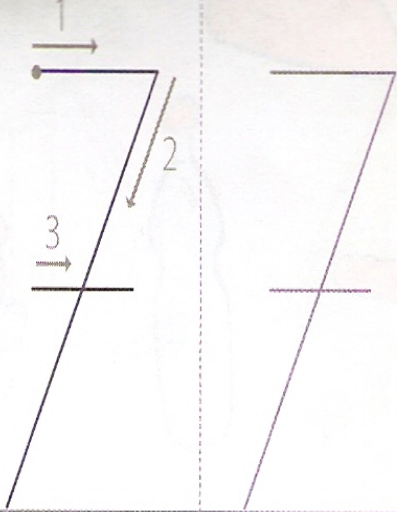
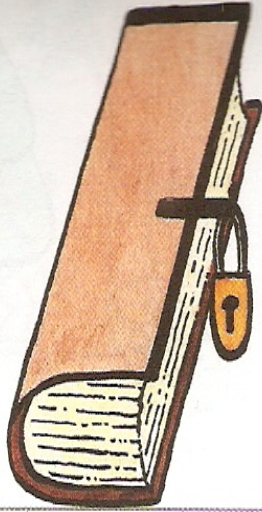
**Lienka, lienka, chrobáčik,
ty máš pekný kabátik.
Na ňom bodiek sedem,
spočítať ich už viem.**

2. Dokresli tak, aby lienka mala sedem bodiek. Obrázok vymaľuj.



Free Writing Practice Page of Dotted Lines, Handwriting Worksheet

3. Napíš.



7	7								
7	7								
0	1	2	3	4	5	6	7		
7	6	5	4	3	2	1	0		

Utorok 12.05.2020

4. Vypočítaj slovné príklady.


Oto mal 1 dubák
Našiel ešte 3 dubáky.



Koľko dubákov
má Oto spolu? _____

--	--	--	--	--


Peter mal 4 holuby.
1 holub mu odletel.



Koľko holubov
Petrovi zostalo? _____

--	--	--	--	--


Alena mala 4 balóny.
Tri jej praskli.



Koľko balónov
Alene zostalo? _____

--	--	--	--	--

Ivo mal 4 zákusky.
2 z nich zjedol.



Koľko zákuskov
Ivovi zostalo? _____

--	--	--	--	--

Streda 13.05.2020

5. Vypočítaj príklady na sčítanie.

$$3+2=$$

$$4+1=$$

$$8+2=$$

$$7+1=$$

$$0+0=$$

$$4+5=$$

$$7+2=$$

$$7+3=$$

6. Vypočítaj príklady na odčítanie.

$$5-2=$$

$$6-4=$$

$$9-9=$$

$$9-8=$$


$$5-0=$$

$$4-2=$$

$$6-6=$$

$$9-7=$$


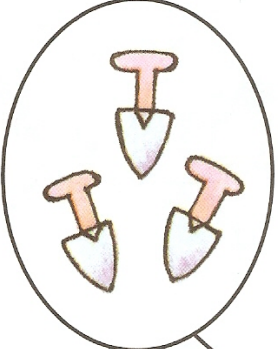



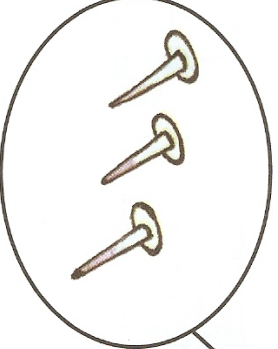


7. Dopíš znamienka.



8. Pomenuj kvety a povedz, kedy kvitnú.



Štvrtok 14.05.2020

9. Doplň čísla a správne znaky.



			
<input type="text"/>	<input type="text"/>	<input type="text"/>	<input type="text"/>
<input type="text"/>	<input type="text"/>	<input type="text"/>	<input type="text"/>
			
<input type="text"/>	<input type="text"/>	<input type="text"/>	<input type="text"/>
<input type="text"/>	<input type="text"/>	<input type="text"/>	<input type="text"/>

10. Pomenuj pracovné nástroje.

11. Dopíš správne znaky.



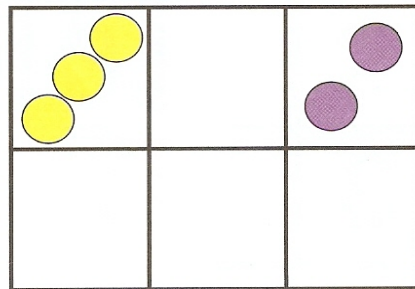
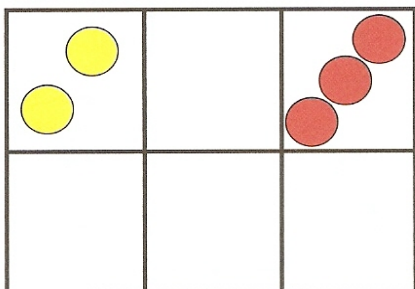
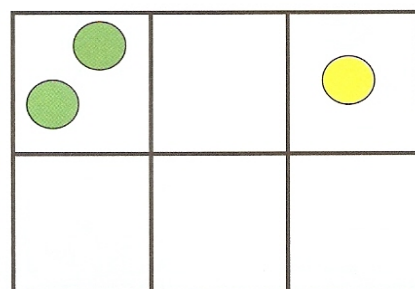
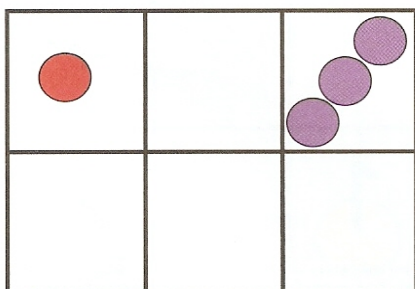
1		3
---	--	---



3		1
---	--	---

12. Povedz, kde žijú zvieratá z obrázkov.

13. Dopíš čísla a správne znaky.



Piatok 15.05.2020

14. Ktorá vlna je tá správna? Obtiahni ju farebnou pastelkou.

