

Matematika

Týždeň: 15.04.2020 – 17.04.2020

Téma: Čítanie a písanie čísla 3. Prirodzené čísla 1 až 10. Usporiadanie.

Streda 15.04.2020

1. Prečítaj básne. Aké číslo sa v nich spomína?





Malá hlava,
väčšie bruško,
a trojka si stojí tíško.

Trojka v kúte jojká:
"Každý sa ma bojká!
Ja však nie som zlá tak moc,
horšia isto je aj noc."

2. Obrázok vymaľuj.



3. Napíš.

			
3 3			
3 3			
1 2 3			
3 2 1			

Štvrtok 16.04.2020

4. Nakresli 3 rozličné motýle.



5. Vypočítaj príklady na odčítanie.

$$5-4 =$$

$$8-2 =$$

$$9-4 =$$

$$7-3 =$$

$$5-4 =$$

6. Vypočítaj príklady na sčítanie.

$$6+3 =$$

$$3+3 =$$

$$3+2 =$$

$$5+0 =$$


$$9+1 =$$

Piatok 17.04.2020

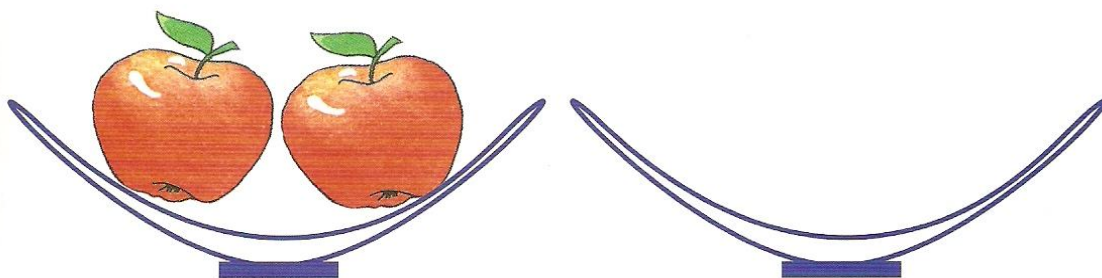
7. Vyfarbi postavu (zvieratko), ktoré je hned' za dedkom, potom tie postavy (zvieratká), ktoré kráčajú za vnúčkou.




8. Nakresli do prázdných misiek toľko jabĺk, aby ich celkový počet zodpovedal číslu uvedenému pod miskami.



2



3



3