

Matematika

Týždeň: 18.05.2020 – 22.05.2020


Téma: Čítanie a písanie čísla 8. Prirodzené čísla 1 až 10. Dichotomické triedenie.

Pondelok 18.05.2020

1. Prečítaj báseň. O akom čísle sa v básni rozpráva?


Plače biela mašľa,
že sa v blate našla.
Plače mašľa z hlávky
osemročnej Slávky.

2. Obrázok vymaľuj.

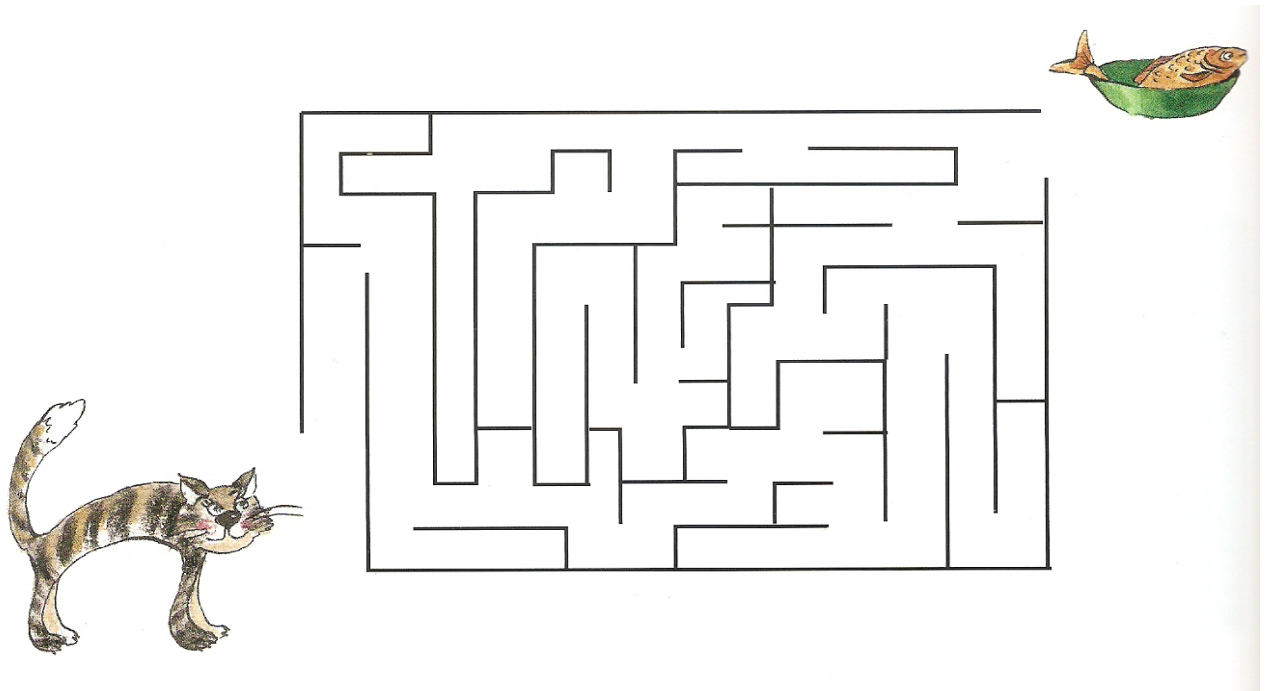


Utorok 19.05.2020

4. Na týchto obrázkoch je 7 rozdielov. Nájdi ich.



5. Máš pred sebou labyrint. Nájdi cestu, ktorou sa mačka dostane k rybe.



Streda 20.05.2020

6. Vypočítaj príklady na sčítanie.

$$5+4=$$

$$4+5=$$

$$8+1=$$

$$7+1=$$

$$6+0=$$

$$4+4=$$

$$7+3=$$

$$2+3=$$

7. Vypočítaj príklady na odčítanie.

$$8-2=$$

$$6-5=$$

$$9-9=$$

$$9-0=$$



$$8-0=$$

$$4-4=$$

$$10-8=$$


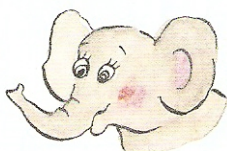
$$10-6=$$

8. Prekresli obrázky z hornej tabuľky do dolnej tak, aby boli rozmiestnené úplne rovnako.



Štvrtok 21.05.2020

9. Pozorne si prezri obrázok. Aké zvieratá sú na ňom namaľované?
Pomenuj ich, spočítaj a napíš toto číslo do štvorčeka nad príslušným zvierat'om.



10. Obkresli písmena krúžkom a číslice štvorcom.

4 N O J 8 5 7 K I M 4

7 2 D 4 9 M 2 6 2 7 A

N R S 6 1 8 Z O D I Ž

D M 4 8 2 5 G 7 1 3 Z

Ž 7 9 I S B 8 M S D 9

Piatok 22.05.2020

11. Na obrázku sú rôzne zvieratá. Pomenuj ich. Rozdeľ ich na vodné a na tie, ktoré nie sú vodné.

12. Vodné živočíchy vymaľuj.

