

Úlohy pre žiakov II. ročníka v týždni od 6. 4. - 8. 4. 2020 z predmetu
Matematika


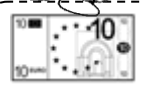







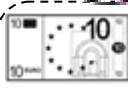






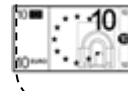

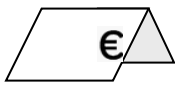

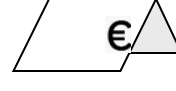

Téma: Upevňovanie učiva. Počítanie do 20 bez prechodu cez základ.

Milí žiaci, posielam úlohy na tento týždeň. Verím, že to hravo zvládnete.

1. Vypočítaj:

$\square \xleftarrow{+2} 17 \xrightarrow{-6} \square$	$\square \xleftarrow{+3} 16 \xrightarrow{-4} \square$	$\square \xleftarrow{+4} 13 \xrightarrow{-11} \square$
$\square \xleftarrow{+5} 14 \xrightarrow{-3} \square$	$\square \xleftarrow{-5} 17 \xrightarrow{-3} \square$	$\square \xleftarrow{-7} 18 \xrightarrow{-4} \square$
$\square \xleftarrow{+3} 5 \xrightarrow{-4} \square$	$\square \xleftarrow{-6} 20 \xrightarrow{-3} \square$	$\square \xleftarrow{+4} 15 \xrightarrow{-2} \square$
$\square \xleftarrow{+9} 11 \xrightarrow{-10} \square$	$\square \xleftarrow{+3} 7 \xrightarrow{+13} \square$	$\square \xleftarrow{+7} 10 \xrightarrow{-10} \square$

2. Vypočítaj, koľko eur stojí hračka. Cenu napíš na cenovku.

3. Vyrieš slovnú úlohu:

Na stavbe domu pracuje 12 robotníkov. Pridali sa k nim ešte traja.

Koľko robotníkov pracuje na stavbe?

<input type="text"/>	<input type="text"/>	<input type="text"/>	<input type="text"/>	<input type="text"/>
----------------------	----------------------	----------------------	----------------------	----------------------

Na stavbe pracuje spolu _____ robotníkov.

1. Vypočítaj:

$2 + 8 =$

$9 - 4 =$

$12 + 7 =$

$18 + 0 =$

$3 + 15 =$

$13 - 3 =$

$8 + 11 =$

$18 - 7 =$

$11 + 0 =$

$15 - 10 =$

$13 + 4 =$

$5 + 13 =$

$17 + 3 =$

$10 - 9 =$

$14 + 5 =$

$16 + 3 =$

2. Zorad' čísla od najmenšieho po najväčšie:

17, 2, 14, 20, 15					
0, 13, 8, 13, 4					
9, 18, 10, 7, 12					
16, 5, 11, 6, 18					

3. Zuzka mala 18 balónov. Na oslavu použila 10 balónov.

Koľko ich má teraz?

Mala

Použila

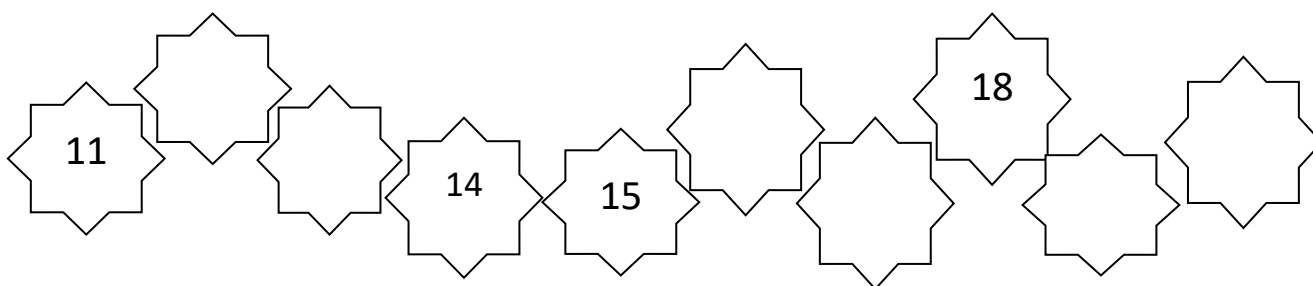

Teraz má.....? _____

Zuzka má teraz balónov.

1. Doplň správně číslo:

12	<	
	>	8
16	>	
14	=	
	<	11
	=	20

2. Doplň číselný rad:



3. Vypočítaj:

$2 + 8 + 4 =$

$3 + 7 + 1 =$

$1 + 9 + 6 =$

$6 + 4 + 5 =$

$9 + 1 + 0 =$

$5 + 5 + 3 =$

$7 + 3 + 6 =$

$8 + 2 + 3 =$

$4 + 6 + 8 =$