


Pondelok 20.4.2020



Vypočítaj.

15	-	0	=	
13	-	10	=	
12	-	2	=	
16	-	6	=	
14	-	10	=	

Doplň a porovnaj.


		10
		5
		17
		20
		13

Porovnaj.

3		10
13		3
13		10

10		8
8		18
10		18

Utorok 21.4.2020



Zisti, čo vypočítaš. Vypočítaj.

$$\begin{array}{|c|c|c|c|} \hline 10 & + & 3 & = \\ \hline 3 & + & 10 & = \\ \hline \end{array}$$

$$\begin{array}{|c|c|c|c|} \hline 13 & - & 3 & = \\ \hline 13 & - & 10 & = \\ \hline \end{array}$$

Vypočítaj. Príklady s rovnakými výsledkami vyfarbi rovnakou farbou.


1+1	2+1	3+1	4+1	5+1
1+2	2+2	3+2	4+2	5+2
1+3	2+3	3+3	4+3	5+3
1+4	2+4	3+4	4+4	5+4
1+5	2+5	3+5	4+5	5+5

Doplň tabuľku. Postupuj po riadkoch alebo po stĺpcoch.

+	3	4	5
2	5		
3			
4			
5			

Streda 22.4.2020

Vypočítaj. Tučniaky postupne škrtaj podľa pokynov. Vždy povedz, koľko je škrtnutých a koľko neškrtnutých.
Dopíš poradie tučniakov zľava doprava.



Vypočítaj.

$4 + 3 =$

$6 + 0 =$

$7 + 2 =$

$5 + 5 =$

$3 + 5 =$

$1 + 8 =$

$2 + 4 =$

$9 + 1 =$

$10 - 0 =$

$8 - 3 =$

$9 - 6 =$

$10 - 4 =$

$7 - 2 =$

$5 - 3 =$

$6 - 4 =$

$10 - 2 =$

Doplň súčet podľa vzoru.



Štvrtok 23.4.2020

Zapíš počet.

Diagram showing eight vertical lines with colored boxes at the top and colored beads below. A small bird is perched on the blue line. The lines are: 1. Orange box, 3 orange beads. 2. Purple box, 8 purple beads. 3. Green box, 2 green beads. 4. Pink box, 1 pink bead. 5. Grey box, 4 grey beads. 6. Red box, 0 beads. 7. Blue box, 6 blue beads. 8. Yellow box, 5 yellow beads.

Rozlož číslo 10.

Diagram showing a ten-frame with a blue roof and a red bird. The roof contains the number 10. The frame has two columns of ten boxes each. The left column contains numbers 1 through 10, and the right column is empty.

- a) Porovnaj.
- b) Väčší počet znázorni čiarkami.

5 < 7

6 □ 9

8 □ 2

10 □ 1

0 □ 4

2 □ 1

4 □ 10

3 □ 3

Piatok 24.4.2020

Zisti, či je na obrázku **viac** alebo **menej** autíčok ako 10.



Na obrázku je autíčok. Je ich ako 10.

Porovnaj.

4	<input type="text"/>	7	0	<input type="text"/>	6
9	<input type="text"/>	3	10	<input type="text"/>	9
1	<input type="text"/>	10	6	<input type="text"/>	2
5	<input type="text"/>	8	8	<input type="text"/>	8
4	<input type="text"/>	4	7	<input type="text"/>	2

