

Pondelok 11. 5. 2020

1. Vypočítaj

$3 + 5 = \underline{\quad}$

$8 - 3 = \underline{\quad}$

$2 + 7 = \underline{\quad}$

$4 + 6 = \underline{\quad}$

$9 - 5 = \underline{\quad}$

$10 - 7 = \underline{\quad}$

$12 + 8 = \underline{\quad}$

$3 + 16 = \underline{\quad}$

$4 + 13 = \underline{\quad}$

$19 - 6 = \underline{\quad}$

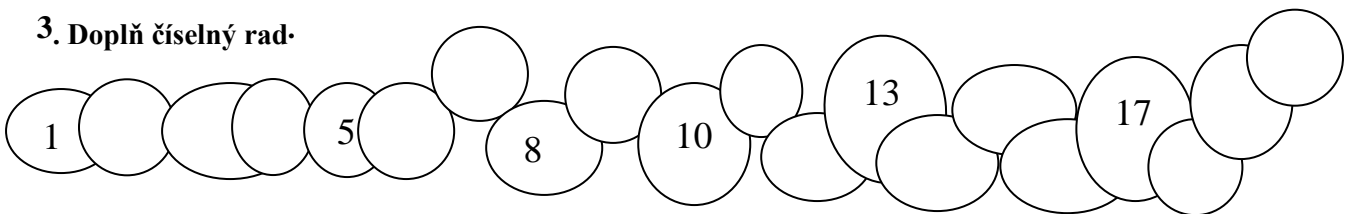
$18 - 4 = \underline{\quad}$

$20 - 9 = \underline{\quad}$

2. Usporiadaj od najväčšieho po najmenšie.

14, 10, 1, 19, 10, 11, 12, 15, 16, 4, 5, 2, 12, 17, 20

3. Doplň číselný rad.



4. SLOVNÁ ÚLOHA:

V ZOO bolo 8 levov a 2 hady.

Koľko zvierat spolu bolo v ZOO?

Levov

Hadov.....

Spolu?

Utorok 12. 5. 2020

NASEDĚTECKÝ SK

pre domov veľkých detí



Slonica Veronika a sloník Mirko dostali na domácu úlohu vypočítať príklady. Keďže v škole nedávali pozor, tak ich nevedia vypočítať. Naučíš ich to?

$8 - 2 =$

$3 - 2 =$

$5 + 1 =$

$4 + 4 =$

$4 - 2 =$

$2 + 5 =$

$3 + 2 =$

$9 - 2 =$

$5 - 2 =$

$4 + 3 =$

$4 + 2 =$

$4 - 0 =$

$5 - 4 =$

$5 + 3 =$

$4 - 4 =$

$2 + 5 =$

$6 - 3 =$


$2 - 1 =$

$7 + 2 =$

$1 - 1 =$

Veroniku a Mirka naučil počítat'

MENO:



1. Napíš čísla, ktoré sú o 5 menšie ako:

10	9	5	15	20	19	8	6	16	18

2. Napíš čísla, ktoré sú o 5 väčšie ako:

10	0	5	15	1	14	4	3	13	11

3. Dopln vhodné číslo podľa znaku $>$ $<$

$10 < \underline{\quad}$

$16 > \underline{\quad}$

$5 < \underline{\quad}$

$11 < \underline{\quad}$

$15 > \underline{\quad}$

$19 > \underline{\quad}$

$20 > \underline{\quad}$

$14 < \underline{\quad}$

$0 < \underline{\quad}$

$4 > \underline{\quad}$

Štvrtok 14. 5. 2020

Zakružkuj: kocky žltou, valce modrou, gule červenou.



Piatok 15. 5. 2020

1. Spočítaj guľičky:



	+		=	
--	---	--	---	--



	+		=	
--	---	--	---	--

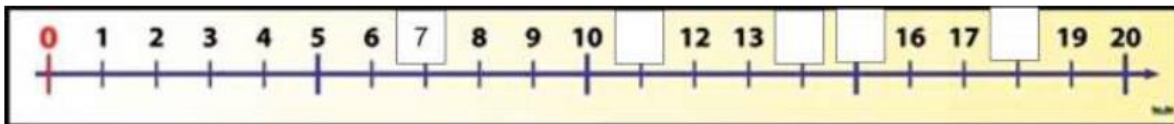


	+		=	
--	---	--	---	--

2. Doplň čísla v číselnom rade:

0	1	2	3							10	11	12	13						
---	---	---	---	--	--	--	--	--	--	----	----	----	----	--	--	--	--	--	--

2. Vyznač čísla na číselnej osi:



Rozhodni, či je pravda: (Správnu odpoveď zakrúžkuj).

Hneď pre 8 je 7.

ÁNO	NIE
-----	-----

Hneď za 16 je

ÁNO	NIE
-----	-----

 17.

Hneď za 10 je

ÁNO	NIE
-----	-----

 13.

3. Porovnaj čísla:

5		15
---	--	----

17		7
----	--	---