

Predmet : Vlastiveda

Trieda : IV. A

Dátum : 11. 5 - 15. 5. 2020

Pekný nový týždeň,

Nech sa páči nové úlohy z učebnice vlastivedy. Veľa šťastia pri ich vyplňaní.

Vypracované úlohy mi prosím posielajte na školský mail-
zssnp13.erikahovancikova@gmail.com

1. Pozorne si prečítaj text. Pracuj s mapou z úlohy 4

/ 1/



























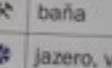







Znaky na mape

Pozoruj mapu Slovenska. Povedz, čo všetko je na nej zaznačené.

Mapa obsahuje veľa informácií o krajine, ktorú znázorňuje. Povrch krajiny je na mape znázornený pomocou farieb. Hrady, zámky, zrúcaniny, vrchy, jaskyne, bane, kúpele, prírodné pamiatky, kultúrne pamiatky, letiská, prístavy a iné **objekty** sú znázornené pomocou **znakov**. Význam jednotlivých znakov je uvedený v **legende**, ktorá je súčasťou mapy. Znaky nám pomáhajú mapu čítať, to znamená ukazovať prstom po mape a rozprávať o tom, čo je na nej znázornené.

2. Pozorne si prečítaj a pozri znaky na mape a skús čo najviac z nich vyhl'adať na mape v úlohe 4. Aspoň 5 znakov si prekresli do zošita a napíš, čo znamenajú

/ 2/

Legenda mapy	
	vodný tok
	vodná nádrž
	štátna hranica
	železnica
	diaľnica a rýchlostná cesta
	cesta 1. triedy
	cestný tunel
	prístav
	letisko
	hraničný priechod
BRATISLAVA	
	hlavné mesto
	krajské mesto
	okresné mesto
	mesto
	vidiecke sídlo
	sedlo, priesmyk
	vrch
	národný park
	kostol, kláštor, kaplnka, pútnické miesto
	archeologická lokalita
	prírodná pamiatka UNESCO
	kultúrna pamiatka UNESCO
	jaskyňa
	kúpele
	gejzír
	kúpalisko
	hrad, zámok, kaštieľ
	hradná zrúcanina
	skanzen, ľudová architektúra
	folklórny festival
	baňa
	jazero, vodopád, minerálny prameň
	památnosť (pamätník, pamätný dom, radnica, hradby, technická pamiatka - historická železnica, mlyn a podobne)
	prírodná zaujímavosť (skala, tiesňava, rašelinisko, travertínový útvar a podobne)

Výsek mapy pohoria Nízke Tatry

3. Dopln' význam znakov na linajky a zakresli správny znak

/ 3 /

Urč význam znakov:
správny znak:

Zakresli



Okresné mesto

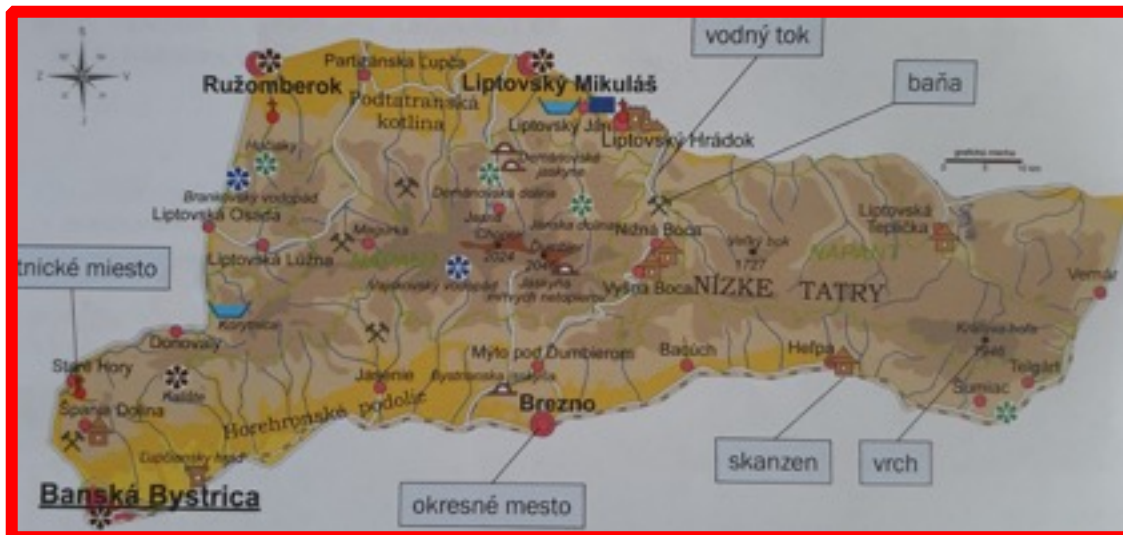
Mesto

Letisko

Kostol

4. Výsek mapy, s ktorou pracuj v úlohách 1, 2, 3

/ 4 /



4. Vyskúšaj si, čo si si zapamätal z prebratej látky

/ 5/

Prečítaj vetu. Ak je pravdivá, vyfarbi písmeno v rámečku. Vyfarbené písmená napíš pod tabuľku.

Mapa je zmenšený obraz krajiny.	S
Mapy poznáme kreslené a pisané.	K
Pomocou farieb na mape znázorňujeme povrch krajiny.	L
Odtieňmi zelenej farby značíme na mape nížiny.	O
Odtieňmi hnedej farby značíme na mape pohoria.	V
Hranice na mape značíme prerušovanou zlatou farbou.	A
Modrou farbou značíme na mape rieky, potoky a vodné plochy.	E
Oranžovou farbou na mape značíme poľa.	R
Obce značíme na mape červeným krúžkom alebo plôškou.	N
Na mape je sever na hornom okraji mapy.	S
Na mape je juh na pravom okraji mapy.	N
Objekty sú na mape znázornené pomocou znakov.	K
Znaky na mape sú ľubovoľne umiestnené objekty.	V
Pomocou grafickej mierky mapy môžeme merať vzdialenosť na mape.	O



Zdroje-

1,2,4,5 Znaky na mape- Učebnica vlastivedy pre 4. roč. ZŠ

3 Znaky na mape- https://www.zborovna.sk/kniznica.php?action=show_version&id=290908