




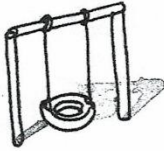

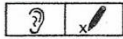
WP - D - Lösungen



Name: _____

Datum: _____

81



Zu den Fibelseiten 44, 45: Heraushören und Ankreuzen von /au/ im An-, In- oder Endlaut


MALEN NACH BUCHSTABEN

b = rot

d = blau


p = gelb

au = grün







Male aus diesen Formen etwas.




Das ist eine Maus mit lila Fell.



Hier rast ein weinrotes Auto.




Daraus wird eine rosa Sau.




Sieh mal, ein altes Haus!

Reime mit. Male das Reimwort.




der Bube
die Tube



die Hose
die Dose



der Fall
der Ball



das Tal
der Wal



der Hund
der Mund



das Band
die Hand

Au au



1



aus	saufen	aussaufen	
	laufen	auslaufen	
	ruhen	ausruhen	
auf	passen	aufpassen	
	fressen	auffressen	
	essen	aufessen	
an	fassen	anfassen	
	sehen	ansehen	
	rufen	anrufen	

2




Haus Auspuff Maulwurf Raum Auto

	Haus		Raum		Auto
	Auspuff		Maulwurf		

46 Zu den Fibelseiten 52 und 53:
 1. Schreiben der Verben mit den Vorsilben aus-, auf- und an-. Verbinden mit den richtigen Bildern
 2. Schreiben der Wörter zu den Bildern

AH S. 47/3



3



Wir fahren mit dem Auto in ein Dorf.

Tante Laura ist mit dem Auto da.



Die Sau muss fressen und ausruhen.

Nina und Ina sehen Esel und Hasen.

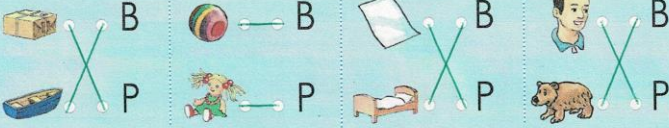
Auf der Wiese ist ein Hund.




B b



1 B-P?



2 Reime.



Amon und Nina bauen ein Baumhaus.

Amon und Nina bauen ein Baumhaus.

3



48 Zu den Fibelseiten 54 und 55:
1. Herausheören ähnlicher Laute, Verbinden der Bilder mit den richtigen Buchstaben
2. Schreiben der Reimwörter, Markieren der Wortgrenzen, Schreiben des Satzes
3. Sortieren der Buchstaben zu Wörtern, Schreiben der Wörter

AH S. 49/4,5



4



5

Ina und Nina sind in der Badewanne.

Ina hat einen blauen Lappen in der Hand.

Mia will mitbaden.



Was will Mia? Mia will mitbaden.

Was hat Ina in der Hand? Ina hat einen blauen Lappen in der Hand.

oder einen blauen Lappen

der	die	das
Sonnenhof	Tante	Auto
Hof	Sau	Land
Esel oder →	Henne	Fohlen
(Papa)	Hasen	Haus
Hund	Enten, Wiese	Baumhaus
Wald	(Mutter)	
Bauernhof	Welpen	
Bus	Bude	
Pinset: oder →	Bilder, Farben	

AH - Kontrolle

Darstellen der Zahlen bis 20

1 Lege, male und schreibe!

10 19 14

2

$17 = 10 + 7$ $13 = 10 + 3$ $16 = 10 + 6$

3 Lege und male auf verschiedene Weise 20!

$20 = 10 + 10$ $20 = 12 + 8$ $20 = 15 + 5$

4 Welche Zahlen sind es? 14 11 16 20 15

5 Lege und male wie Tino!

13 10 12 17 18 19

6

eins	7	zehn	10	siebzehn	17
null	0	fünf	5	fünfzehn	15
vier	4	vierzehn	14	neunzehn	19
acht	8	achtzehn	18	elf	11
zwei	2	dreizehn	13	zwanzig	20

36

Die Zahlen von 11 bis 20

1 Zähl, male und schreibe!

a) 13

b) 15

2

a) 16

b) 12

3 Lege, male und schreibe!

a) 11

b) 18

4

a) 17

b) 14

35

UH - Kontrolle

Zusammenstellen von Plus-Aufgaben

1 Immer 10

z.B. $8 + 2 = 10$ $2 + 8 = 10$

$7 + 3 = 10$ $3 + 7 = 10$

$9 + 1 = 10$ $1 + 9 = 10$

$5 + 5 = 10$ $5 + 5 = 10$

$4 + 6 = 10$ $6 + 4 = 10$

2 Werft Plättchen und tragt jede neue Aufgabe ein!

z.B. $7 + 8$ $1 + 7$ $1 + 6$ 6 5 4 3

$2 + 7$ $2 + 6$ $1 + 6$ $1 + 5$ $1 + 4$ $1 + 3$ $1 + 2$

$3 + 6$ $3 + 5$ $2 + 5$ $2 + 4$ $2 + 3$ $2 + 2$ $1 + 2$

$4 + 5$ $4 + 4$ $3 + 4$ $2 + 4$ $1 + 4$ $1 + 3$ $1 + 2$

$5 + 4$ $4 + 4$ $3 + 4$ $2 + 4$ $1 + 4$ $1 + 3$ $1 + 2$

$6 + 3$ $5 + 3$ $4 + 3$ $3 + 3$ $2 + 3$ $1 + 3$ $1 + 2$

$7 + 2$ $6 + 2$ $5 + 2$ $4 + 2$ $3 + 2$ $2 + 2$ $1 + 2$

$8 + 1$ $7 + 1$ $6 + 1$ $5 + 1$ $4 + 1$ $3 + 1$ $2 + 1$

3

$10 = 1 + 9$	$9 = 1 + 8$	$8 = 1 + 7$	$7 = 1 + 6$
$10 = 2 + 8$	$9 = 2 + 7$	$8 = 2 + 6$	$7 = 2 + 5$
$10 = 3 + 7$	$9 = 3 + 6$	$8 = 3 + 5$	$7 = 3 + 4$
$10 = 4 + 6$	$9 = 4 + 5$	$8 = 4 + 4$	$7 = 4 + 3$
$10 = 5 + 5$	$9 = 5 + 4$	$8 = 5 + 3$	$7 = 5 + 2$
$10 = 6 + 4$	$9 = 6 + 3$	$8 = 6 + 2$	$7 = 6 + 1$
$10 = 7 + 3$	$9 = 7 + 2$	$8 = 7 + 1$	$7 = 7 + 0$

32

Zusammenstellen von Minus-Aufgaben

1 Werft immer 10 Plättchen! Nehmt jeweils die roten Plättchen weg! Schreibt die Minus-Aufgabe auf!

$10 - 10 = 0$	$10 - 4 = 6$
$10 - 9 = 1$	$10 - 3 = 7$
$10 - 8 = 2$	$10 - 2 = 8$
$10 - 7 = 3$	$10 - 1 = 9$
$10 - 6 = 4$	$10 - 0 = 10$
$10 - 5 = 5$	$10 - 1 = 9$

2 Nimm von 9 Plättchen nacheinander immer ein Plättchen weg! Schreibe Minus-Aufgaben!

$9 - 1 = 8$	$9 - 4 = 5$	$9 - 7 = 2$
$9 - 2 = 7$	$9 - 5 = 4$	$9 - 8 = 1$
$9 - 3 = 6$	$9 - 6 = 3$	$9 - 9 = 0$

3 Finde Minus-Aufgaben!

$8 - 1 = 7$	$8 - 5 = 3$	$7 - 1 = 6$	$7 - 5 = 2$
$8 - 2 = 6$	$8 - 6 = 2$	$7 - 2 = 5$	$7 - 6 = 1$
$8 - 3 = 5$	$8 - 7 = 1$	$7 - 3 = 4$	$7 - 7 = 0$
$8 - 4 = 4$	$8 - 8 = 0$	$7 - 4 = 3$	$7 - 0 = 7$

4

$6 = 10 - 4$	$5 = 10 - 5$	$4 = 10 - 6$
$6 = 9 - 3$	$5 = 9 - 4$	$4 = 9 - 5$
$6 = 8 - 2$	$5 = 8 - 3$	$4 = 8 - 4$
$6 = 7 - 1$	$5 = 7 - 2$	$4 = 7 - 3$

33

ÜH-Kontrolle

Rechnen bis 10

1 Ergänze!

0 1 2 3 4 5 5 7 8 9 10 11 12

2

5	6	7	8	9
4	3	2	1	0

z.B.

7	6	5	4	3	2
6	5	4	3	2	1

3

2 < 9	8 > 2	1 > 0	10 > 0	2 = 2
5 = 5	6 > 4	6 < 9	5 < 8	0 < 3
7 > 0	0 < 10	7 > 4	8 > 5	9 > 8
3 < 7	3 = 3	9 = 9	10 > 9	4 > 2

4

V	Z	N
2	3	4
8	9	10
4	5	6
0	1	2

z.B.

V	Z	N
5	6	7
1	2	3
3	4	5
6	7	8

5 Rechne so schnell du kannst! Zeit: min

3+2=5	9-7=2	5-4=1	10-7=3
3+5=8	6-3=3	2+7=9	3+4=7
6+3=9	8-5=3	8-0=8	9-5=4
4+0=4	7-2=5	0+6=6	2+6=8
1+8=9	3-0=3	4-4=0	10-2=8

34

Rechnen bis 10

1 Rechne mit Pfiff! Was stellst du fest?

6+2=8	2+7=9	3+6=9	5-5=0
2+6=8	9-7=2	6+3=9	5-4=1
5+4=9	3+4=7	9-3=6	5-3=2
4+5=9	7-4=3	9-6=3	5-2=3

2

+	6	5	0
3	9	8	3
2	8	7	2
4	10	9	4

L: 0, 2, 2, 2, 3, 3, 4, 4, 5, 5, 5, 7, 7, 8, 8, 8, 9, 9, 10

-	7	5	2
10	3	5	8
7	0	2	5
9	2	4	7

3

3+7=10	9-8=1	5+3+2=10
6-4=2	2+7=9	3+2+4=9
4+0=4	6-6=0	10-4-3=3
9-6=3	2+5=7	8-5-3=0

4 <, > oder =?

4+3=7	9 < 4+6	3+0+4 < 10
8-7 > 0	3=3-0	4+2+4=10
2+5 < 9	7 < 4+5	8-3-2 < 10
8-2 > 5	2 < 2+8	9-7-2 < 10

5

+2	-4	+3	-5
3	4	6	10
8	6	4	8
5	8	0	5
7	10	5	6

35

© 2011 Cornelsen Verlag, Berlin. Alle Rechte vorbehalten

Die Zahlen von 11 bis 20

1

16 19

2

z.B. 15 17

3

z.B. 10+8=18 10+3=13

4

z.B. 10+4=14 10+7=17

5

11	14	17			
12	15				
13	16				

36

Die Zahlen von 11 bis 20

1

10+6=16 10+7=17

10+8=18 10+10=20

2

12=10+2 15=10+5

19=10+9 17=10+7

3

10+3=13	10+10=20	17=10+7
10+7=17	10+2=12	11=10+1
10+1=11	4+10=14	19=10+9
10+5=15	10+6=16	14=10+4
10+9=19	8+10=18	10=10+0

4


16	16	16			
17					
18					
19					
20					


37


Verdoppeln und Halbieren

1 Lege und male immer doppelt so viele!




a) 
 $2 + 2 = 4$


b) 
 $5 + 5 = 10$

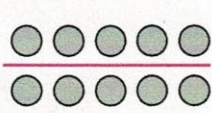
c) 
 $4 + 4 = 8$

2 Lege und halbiere immer!



a) 
 $8 = 4 + 4$

b) z.B. 
 $4 = 2 + 2$

c) 
 $10 = 5 + 5$



3 Verdopple! Lege nach und rechne!

a) $1 + 1 = 2$
 $4 + 4 = 8$

b) $2 + 2 = 4$
 $5 + 5 = 10$

c) $3 + 3 = 6$
 $0 + 0 = 0$

4 Halbiere! Lege nach und rechne!

a) $10 = 5 + 5$
 $4 = 2 + 2$

b) $2 = 1 + 1$
 $8 = 4 + 4$

c) $0 = 0 + 0$
 $6 = 3 + 3$

5 Lege, verdopple und ergänze die Tabelle!

Betrag	4 ct	5 ct	3 ct	2 €	4 €	1 €
das Doppelte	8 ct	10 ct	6 ct	4 €	8 €	2 €



6 Lege, halbiere und ergänze die Tabelle!

Betrag	8 ct	10 ct	4 ct	6 €	8 €	2 €
die Hälfte	4 ct	5 ct	2 ct	3 €	4 €	1 €

